

# 职业能力测验一

## 第一部分 常识判断

1. “让一部分人通过诚实劳动和合法经营先富起来，然后逐渐扩展，达到共同富裕的目标。”这体现了（ ）

- A. 总的量变过程中的部分质变原理
- B. 质变形式非爆发式的原理
- C. 质变过程中量的扩张的原理
- D. 质、量、度三者关系的原理

2. 探测高能粒子运行轨迹的仪器“气泡室”的发明原理是发明者格拉塞尔在喝啤酒时，看到酒杯一串串上升的气泡后发现的，通过实验，他终于以这种方法清晰地呈现出高粒子飞行轨迹，从哲学角度来看，上述案例体现了（ ）

- A. 量变是质变的前提和必要准备
- B. 矛盾双方相互依存
- C. 联系具有普遍性
- D. 矛盾是事物发展的动力

3. “西方有木焉，名曰射干，茎长四寸，生于高山之上，而临万仞之渊。木茎非能长也，所立者然也。”这句话体现的哲理是（ ）

- A. 认识是一个循序渐进的过程
- B. 一切从实际出发
- C. 实践必然经历“失败、成功、再失败、再成功”的过程
- D. 外因对事物的变化起决定作用

4. 下列诗词、作者、风格对应不正确的是（ ）

- A. 朝辞白帝彩云间，千里江陵一日还——李白——浪漫主义
- B. 寻寻觅觅，冷冷清清，凄凄惨惨戚戚——李清照——豪放派
- C. 大江东去，浪淘尽，千古风流人物——苏轼——豪放派
- D. 国破山河在，城春草木深——杜甫——现实主义

5. 日常生活中蕴藏着经济学，经济学原理也反映在人们日常使用的成语俗语中，下列成语和所延伸的经济学原理对应不正确的是（ ）

- A. 凿壁偷光——充分利用正外部性
- B. 待价而沽——寻租行为的表现
- C. 谷贱伤农——需求富有弹性
- D. 鱼与熊掌不可兼得——机会成本

6. 中国共产党同人民群众联系问题和（ ）是关系党生死存亡的问题。

- A. 党风问题
- B. 信念问题
- C. 民主问题
- D. 思想问题

7. 中国共产党的宗旨是（ ）

- A. 全心全意为人民服务
- B. 实现共产主义
- C. 实现社会主义现代化
- D. 高举邓小平理论伟大旗帜

8. 下列关于党的政治建设的说法，错误的是（ ）

- A. 全党要坚定执行党的政治路线，严格遵守政治纪律和政治规矩
- B. 保证全党服从中央，坚持党中央权威和集中统一领导，是党的政治建设的首要任务
- C. 党的文化建设是党的根本性建设，决定党的建设的方向和效果
- D. 在政治立场、政治方向、政治原则、政治道路上同党中央保持高度一致

9. 经过全党和全国各族人民的共同努力，我国胜利实现了现代化建设“三步走”战略的第一步、第二步目标，人民生活总体上达到小康水平，确立现代化建设“三步走”战略目标体现了（ ）

- A. 不同事物具有不同的特点
- B. 矛盾贯穿事物发展的始终
- C. 事事有矛盾，时时有矛盾
- D. 同一事物的矛盾在不同的发展阶段具有不同的特点

10. 公有制经济的主要实现形式是（ ）

- A. 股份制
- B. 租赁制
- C. 承包制
- D. 合作制

11. 某市为落实节能减排工作，出台政策规定市、区两级财政将在年度预算中安排“阳光屋顶示范工程”配套补助资金，用于扶持该市已列入中央财政资金补助计划的太阳能光伏示范项目。这是公共财政的（ ）功能。

- A. 生产补贴
- B. 转移支付
- C. 社会福利
- D. 价格补贴

12. 独生子甲常年外出打工，孤身一人在家的甲母突发急病住院，邻居乙将甲母送到医院，并垫付了医药费，乙与甲之间由此形成的债权债务关系是（ ）

- A. 合同之债
- B. 不当得利之债
- C. 无因管理之债
- D. 侵权行为之债

13. 根据我国《劳动合同法》的规定，劳动合同期限三个月以上不满一年的，试用期不得超过（ ）

- A. 一个月
- B. 三个月
- C. 五个月
- D. 七个月

14. 新航路得以开辟的最根本原因是（ ）

- A. 商品经济的发展
- B. 对东方商品的需求
- C. 航海造船技术的发展
- D. 传统的东西方商路受阻

15. “白日放歌须纵酒，青春作伴好还乡”是杜甫听到叛乱被平息时写下的诗句，这里的“叛乱”是指（ ）

- A. 七国之乱
- B. 玄武门之变
- C. 安史之乱
- D. 靖难之役

16. “阿Q精神”简单地说就是一种自我安慰的精神，阿Q是哪位作家笔下的人物（ ）

- A. 矛盾
- B. 鲁迅
- C. 巴金
- D. 老舍

17. 下列不属于法家思想的是（ ）

- A. 法不阿贵，绳不挠曲
- B. 圣人不法古，不循今
- C. 易其田畴，薄其税敛，民可使富也
- D. 君必有明法正义，若悬权衡以称轻重

18. 梅雨的主要特征是（ ）

- 
- A. 狂风暴雨
- B. 主要发生在东北地区
- C. 降水范围大，常伴有雷电
- D. 阴雨连绵，历时长，强度一般不大
19. 下列与雪有关的说法正确的是（ ）
- A. 大气中有足够的凝结核是形成降雪的必要条件
- B. 食盐可作为融雪物质，是因为盐水的凝固点比纯水高
- C. “下雪不冷化雪冷”是因为凝固吸热，有降温制冷作用
- D. “六月飞雪”是文学作品杜撰的场景，不可能在我国境内出现
20. 关于被誉为空难“见证人”的黑匣子，下列说法错误的是（ ）
- A. 是航空飞行记录仪器
- B. 具有极强的抗磁干扰能力
- C. 外壳采用绝热、防冲击保护材料
- D. 通常安装在飞机中部位置
21. 下列不属于行政管理的基本职能的是（ ）
- A. 计划职能
- B. 发展职能
- C. 组织职能
- D. 协调职能
22. 进行职业道德修养的根本途径和方法是（ ）
- A. 开展职业道德评价，严于律己
- B. 提升精神境界，努力做到“慎独”
- C. 学习先进人物，不断激励自己
- D. 参加社会实践，坚持知行统一
23. 适用于发布会议讨论通过的重大决策事项的公文文种是（ ）
- A. 决议
- B. 纪要
- C. 决定
- D. 公告
24. “民以食为天，食以安为先”，食品安全与身体健康密切相关，下列做法不会危害人体健康的是（ ）
- A. 为果汁长期保鲜，在其中加过量防腐剂
- B. 用小苏打（碳酸氢钠）发酵做面包
- C. 用福尔马林（含50%的甲醛液体）保鲜鱼肉等食品

- D. 在牛奶中添加三聚氰胺，提高奶液中的含氮量
25. 下列关于购买使用家用电器的说法，错误的是（ ）
- A. 电热毯在通电时不可折叠
- B. 使用电吹风长时间吹鞋子等不易散热的物体
- C. 使用电熨斗等发热电器，如遇停电，不切断电源不能离开
- D. 购买家用电器时，应选择3C认证或行业认证的

## 第二部分 言语理解与表达

26. 我们常说：“慢工出细活”，在我看来，集邮就是一件既要慢又要细的爱好，“细”指的不只是集邮过程的细致，更是“集邮博天下，方寸藏古今”的“\_\_\_\_\_”，透过一张张小小的邮票，可以了解到各地的风景名胜、风土人情乃至悠久历史，不仅增长知识，开拓视野，还带来了现代快节奏生活里独一无二的生活情调。

- 依次填入横线部分最恰当的一项是（ ）
- A. 无奇不有
- B. 博古通今
- C. 蔚为大观
- D. 小中见大

27. 长期以来，喜剧作为一种雅俗共赏的艺术形式，丰富了人民群众的文化生活，发挥了很好的作用。毋庸讳言，眼下有一种现象需要注意，那就是在戏剧舞台上传统戏比重大，如京剧舞台几乎充满了传统戏，现代戏却\_\_\_\_\_，数量少的情况依然长期存在。

- 填入横线部分最恰当的一项是（ ）
- A. 独一无二
- B. 乏善可陈
- C. 凤毛麟角
- D. 销声匿迹

28. 信念能磨出追求的执着，人生之路坎坷不平，特别是从事一项艰难的事业，往往机会与暗礁并存，光明与\_\_\_\_\_同在。心灯不灭，才能“不畏浮云遮望眼”；\_\_\_\_\_信心，才能“咬定青山不放松”。

- 依次填入横线部分最恰当的一项是（ ）
- A. 羁绊 烛照
- B. 黯淡 坚定
- C. 羁绊 塑造
- D. 晦暗 重拾

29. 对于很多人来说，一方面希望亲近传统文化，但另一方面古籍晦涩难懂，使得阅读

确有困难，所以开讲座、做节目、办展览，用\_\_\_\_\_的语言对珍贵典籍、经典著作进行阐述，受到了大家的一致好评，不失为使大众亲近传统文化的一种方法，《百家讲坛》《中国诗词大会》的\_\_\_\_\_，也从侧面说明了这个问题。

依次填入横线部分最恰当的一项是（ ）

- A. 高雅 悄然兴起
- B. 通俗 风靡一时
- C. 浅显 甚嚣尘上
- D. 肤浅 大行其道

30. 中国楼市是一个最离奇的市场，离奇得让人难以找到一个能有效解释其行踪的分析框架。当你是处洪荒之力想搞明白楼市为何上涨时，楼市新政已\_\_\_\_\_，如同踏准音乐的节拍一样。各城市都相继推出了楼市新政，有的试图通过楼市降温；有的则想方设法通过楼市新政搭乘这一轮楼市热浪；还有的城市，楼市新政尚待字闺中，却让人们有如\_\_\_\_\_，在民政局掀起离婚潮。

依次填入横线部分最恰当的一项是（ ）

- A. 如约而至 杯弓蛇影
- B. 不期而至 惊弓之鸟
- C. 不期而遇 漏网之鱼
- D. 失之交臂 心有余悸

31. 人工智能是人类创造出来的，科技的进步固然是把双刃剑，但最后人类总能依靠智慧利用好高科技，也会采取主动来\_\_\_\_\_其弊端。或许有一天，人工智能得到跨越式发展，当我们回首看人类对战AlphaGo的失败时，会有点类似于当汽车被发明出来时，人来要挑战汽车速度最终落败那样悲壮而可笑。我们不应该忘记，人类在速度上虽然输给了汽车，但仍旧在\_\_\_\_\_它。

依次填入横线部分最恰当的一项是（ ）

- A. 扩大 操控
- B. 限制 驾驭
- C. 突显 利用
- D. 摆脱 改进

32. 目前在播的几档“慢综艺”节目，尽管观众口碑很好，但从收视率、点击量的市场指标来看，却无法与几年前的现象级“快综艺”\_\_\_\_\_，在这个充满竞争、讲求效率的现代社会，“慢综艺”能够拓展出怎样的市场前景和生命周期，还需要经受时间的\_\_\_\_\_。它究竟是电视综艺节目在急速奔跑后的一次短暂休息，还是长期的掉头转向，还有待观众的选择。

依次填入横线部分最恰当的一项是（ ）

- A. 一概而论 洗礼  
B. 比肩而立 审视  
C. 混为一谈 磨砺  
D. 同日而语 考验

33. 人活在世界上有多少幸福，就有多少苦难，生活不能等待别人来安排，要自己去争取和奋斗，而\_\_\_\_\_其结果是喜是悲，可以慰藉的是你总不枉在这世界上活了一场，有了这样的认识，你就会珍重生活，\_\_\_\_\_不会玩世不恭，\_\_\_\_\_也会给人自身注入一种强大的内在力量。

依次填入横线部分最恰当的一项是（ ）

- A. 不论 却 此外  
B. 尽管 而 同时  
C. 不论 而 同时  
D. 尽管 却 此外

34. 学位证书的设计恰似\_\_\_\_\_大学的窗口，通过这扇窗，可以看到大学领导及整体团队的创新，开拓精神和价值取向，如果决策层一味\_\_\_\_\_，不敢突破，甚至是人云亦云，那么证书设计想在结构和形式上创新，就很难再印刷工艺，你烫金，我压印，在内文里，你用学堂图案，我用大楼表现……究其心理，无非是怕万一把握不好吃，设计尺度达不到出“奇”制胜的效果导致\_\_\_\_\_。

依次填入横线部分最恰当的一项是（ ）

- A. 窥探 冥顽不灵 黯然失色  
B. 审视 抱残守缺 嗤之以鼻  
C. 凝视 食古不化 冷嘲热讽  
D. 透视 墨守成规 贻笑大方

35. 在法国城市，除博物馆、火车站、音乐厅、教堂等城市标志性建筑外，单体建筑看上去都\_\_\_\_\_，但建筑与建筑之间相互\_\_\_\_\_和呼应，\_\_\_\_\_出统一和谐的整体美。

依次填入画横线部分最恰当的一项是（ ）

- A. 平淡无奇 融合 营造  
B. 波澜不惊 交融 营建  
C. 毫无新意 契合 创造  
D. 栩栩如生 配合 构建

36. 展开中国对外开放的画卷，可以看到一幅千帆竞发、百舸争流的宏伟\_\_\_\_\_。地处改革开放前沿的东部地区继续\_\_\_\_\_，纵深广阔的内陆地区发挥后发优势迎头赶上，潜力巨大的沿边地区借助区位优势竞相发力，全方位、多层次、宽领域的对外开放新\_\_\_\_\_正在形成。



填入划横线处的词语最恰当的一项是（ ）

- A. 图画 发力 形势
- B. 场景 领先 常态
- C. 景象 启航 趋势
- D. 图景 领航 格局

37. 在生活中，刁难最初似乎是\_\_\_\_\_，但后来却是\_\_\_\_\_。因为一个人被生活刁难过的人，知道该怎样与世界\_\_\_\_\_，也明白生活有时是一门\_\_\_\_\_的艺术。

依次填入横线部分最恰当的一项是（ ）

- A. 伤害 成全 周旋 妥协
- B. 危险 机遇 战斗 坚守
- C. 障碍 机会 凯旋 放弃
- D. 挑战 成功 妥协 坚持

38. 传统文化是中华民族的灵魂，几千年来，春节庙会，清明祭祖，端午赛龙舟，重阳登高等传统民俗活动\_\_\_\_\_，展现了乡土文化旺盛顽强的生命力，乡村旅游大发展，传统村落成为人们\_\_\_\_\_的旅游胜地，民俗体验、乡村写生等成为消费热点。景德镇陶瓷、淄博琉璃、潍坊风筝等乡土工艺品以及泰山皮影、日照农民画等乡土民间艺术纷纷走出国门，中国乡村文化正\_\_\_\_\_地走向世界，挺立于世界文化之林。实践证明，中国乡土文化历经劫难而不亡，\_\_\_\_\_而新生，我们完全有理由树立对乡土文化的自信，这是文化自信的核心构成，决定着文化自信的深度和广度。

依次填入横线部分最恰当的一项是（ ）

- A. 方兴未艾 趋之若鹜 从容不迫 沧海桑田
- B. 如火如荼 纷至沓来 踌躇满志 饱经风雨
- C. 轰轰烈烈 接踵而至 胸有成竹 饱经沧桑
- D. 方兴未艾 心驰神往 信心百倍 天翻地覆

39. ①《国家通用语言文字法》\_\_\_\_\_了，我们要认真学习、宣传、贯彻和实施它。

②国家鼓励各民族互相学习语言文字，国家\_\_\_\_\_普通话，\_\_\_\_\_规范汉字。

③这是共同的道理，古今中外，\_\_\_\_\_。

依次填入横线部分最恰当的一项是（ ）

- A. 颁布 增加 实行 未能免俗
- B. 公布 扩大 扩展 矫枉过正
- C. 颁布 推广 推行 概莫能外
- D. 公布 扩张 增添 锐不可当

40. 宋、明、清三代，非进士出身者，基本上无法成为宰相，而许多炙手可热的官职，也规定不是进士出身者不许担任。能考上一个进士，已经殊为不易，更何况作为进士中第一



名的状元了！状元一旦出笼，便立刻进入国家的储才机构——翰林院，被作为未来的宰相加以重点培养，各种别人削尖了脑袋也谋不到的美差也会扑面而来，挡都挡不住。

根据这段文字，下列说法正确的是（ ）

- A. 考取状元是成为宰相的必经之路
- B. 重要官职都由进士出身者担任
- C. 状元在仕途上有更好的发展机会
- D. 只有状元才能进入翰林院

41. 任何金融投资行为都存在一定的风险，这是毋庸置疑的，只是风险的大小不同而已，想要找到没有任何风险的金融投资项目几乎是不可能的，但是，不能因此认为，风险既然难以避免，因而就无所谓，实际情况是减小、锁住乃至规避风险，或者较小的风险获取较大的投资回报，有一定的规律性，可以在一定程度上把握。

这段文字主要说明（ ）

- A. 人们对金融投资风险的认知是逐步加深的
- B. 研究者的心态是控制金融投资风险的制约因素
- C. 现实生活中人们往往会夸大金融投资的风险
- D. 金融投资虽然有风险，但还是能够掌握的

42. 画是有形的诗，讲究直觉与意境。批评是无形的思，侧重理性与逻辑。

\_\_\_\_\_。柏拉图要把诗人逐出他的理想国，诗人对他也没有好感；“诗圣”杜甫“穿花蛱蝶深深见，点水蜻蜓款款飞”的诗句，被儒家思想家朱熹颇为不屑地批评说：“道他做甚？”言下之意是很无聊很没意思。

填入横线部分最恰当的一项是（ ）

- A. 诗与思是宿敌
- B. 感性与理性需互相参照
- C. 哲学家与诗人势如水火
- D. 画与批评是不可分割的整体

43. 一本好书出了，不过如此，大奖拿上了，响动甚巨。原因是大奖调动了社会资源，与国家、权力、财力结合在一起，堂堂皇皇地闯入文学的象牙塔，以世俗之力去干预有脱俗之心的语言艺术。这样，各种奖被传媒与大众所十分关注，而单枪匹马的作家，没有这样的实力。

这段话的主要意思是（ ）

- A. 大奖比被奖的文学作品和作家更牛
- B. 大奖能够调动各种社会资源
- C. 获奖的作品更有轰动效应
- D. 世俗的力量会干预脱俗的语言艺术

---

44. 传统中国画讲究“知白守黑”，其含义是“黑者为画，白者为空白”。画面上留的空白要像画的形象那样被重视。换句话说，留出的空白要合理，要符合构图规则。最忌空白大小形状相同，最忌空白似圆、似方，最忌空白散乱如星。好的空白有大有小，都是不规则的三角形，所留空白完整统一。

这段文字意在说明（ ）

- A. 传统中国画的笔法特点
- B. 传统中国画的构图原则
- C. 鉴赏传统中国画的角度
- D. 传统中国画的用墨技巧

45. 美国国家科学基金会发布的一项报告显示，中国首次超越美国，成为世界上科学出版物总量最多的国家。总量攀升固然可喜，但同时也要清醒地看到，我国虽然已经基本形成了规模庞大、门类齐全、涵盖各学科的科技期刊体系，跻身期刊大国行列，却远远称不上科技期刊强国。一个突出不足就是缺乏高质量、有国际影响力的期刊。上一年度我国科技期刊总量高达5000多种，可被SCI（科学引文索引）收录的却不到200种，与发达国家差距依然很大。

这段文字意在强调（ ）

- A. 我国期刊的学术影响水平有待提高
- B. 我国科技期刊缺少优秀论文的原因
- C. 我国科技期刊存在多而不强的问题
- D. 鼓励重要科研成果刊登在国际期刊

46. 目前，各城市的城管机构设置不尽相同，一般分为城建监察大队、城市管理局、城市管理行政执法局、城市管理委员会四种。由于城管工作实际是各自为政，没有一部专门的全国性法律来指导，各地方政府根据立法权限制定了一些地方性条例，但差异很大，难以系统化，并由此导致近年来各地不断出现一些“城管暴力执法”事件，影响到社会安定。

这段文字意在说明（ ）

- A. 当前我国城市多头管理之“乱”
- B. 城管执法问题是社会关注的焦点
- C. 城管纳入法制轨道是当务之急
- D. 有必要制定全国性的城管法规

47. 将以下6个句子重新排列，语序正确的一项是（ ）

- ①我们需要做的就是尽力诠释它的美，延续它的美
- ②众所周知，为了守护中华民族的精神血脉，敦煌学研究需要越来越多的人才
- ③这使得研究者要有“坐十年冷板凳”的勇气，还需要有扎根西部乐于奉献的精神
- ④但不可否认的是，它虽具有重要的文化价值，但属于冷门学科，研究难度极大

⑤敦煌就像是一颗历经千年无数工匠切割打磨的宝石，晶莹剔透，绚丽多彩

⑥敦煌在中国，敦煌学更在世界。它的重要文化价值吸引着世界的目光，这是今天国际敦煌学研究的格局

- A. ②⑤①④③⑥
- B. ⑥④②③⑤①
- C. ②①⑥④③⑤
- D. ⑥④③②⑤①

48. 纵观各国货币发展历史，货币国际化虽然给所在国带来一定风险，但却远远低于带来的好处。从老百姓的角度看，本国货币的国际化程度高，就意味着在出国旅游、消费、留学的过程中可以较为便利地用本币进行支付，不必经过繁琐的兑换程序；从政府的角度看，国际货币发行国可以通过发行本国货币为国际赤字融资，相当于对别的国家征收了“铸币税”，其中的好处不言而喻。因此，许多国家的货币都“争先恐后”地走向国际化。

这段文字意在（ ）

- A. 揭示促使货币国际化的原因
- B. 说明实现货币国际化的结果
- C. 提醒货币国际化潜藏的危险
- D. 剖析货币国际化的实现途径

49. 在层出不穷的网络热词中，我们可以清晰地找到各种民意的身影。在某一网络热词产生之后，网民常常会模仿热词的形式，创造出一个小型的语言符号系统，如在“被就业”产生之后，网民又创造出了“被幸福”等结构相似的“被”字系列。新词的不断涌现，使得这股“被XX”之风长盛不衰，也使得民众对于现实的无力、焦灼等心理状态被有效地传达到上层舆论系统。

最适合做这段文字标题的是（ ）

- A. 网络热词中的民意
- B. 长盛不衰的“被”字风
- C. 网民无穷的创造力
- D. 层出不穷的网络热词

50. 瑞士科研人员制造出了全球首个形状、大小以及功能都与真人心脏高度相似的柔性心脏。这种人造心脏使用柔软硅胶材料，由3D打印和石蜡铸造技术制作而成，是一个内部结构复杂的硅胶整体，包含一个右心室和一个左心室，有一个额外腔室将两个心室隔开。这个腔室起着类似肌肉的功能，能像泵一样驱动血液进出心脏。目前常用的人造心脏血泵等装置虽可泵送血液，但其机械部件容易给使用者带来不良影响。

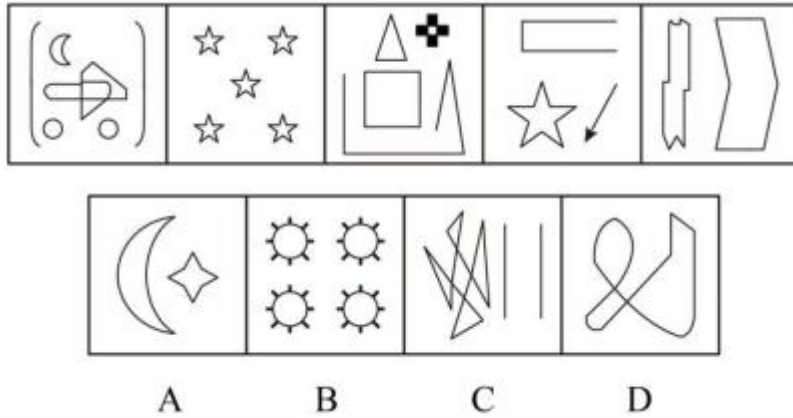
这段文字未涉及柔性心脏的（ ）

- A. 工作原理

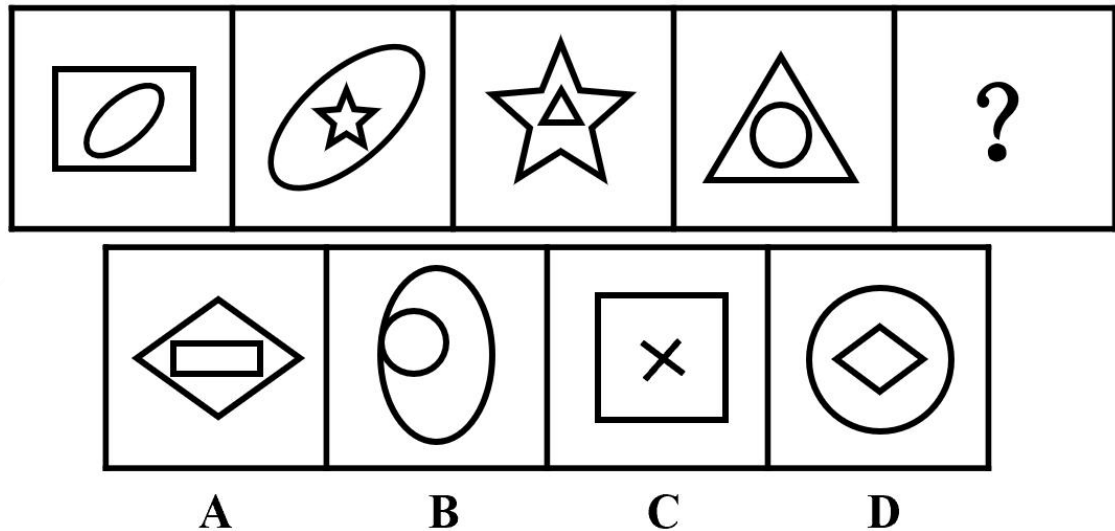
- B. 制作材料
- C. 不良影响
- D. 结构特点

### 第三部分 判断推理

51. 从所给四个选项中，选择最合适的一个，使之呈现一定规律性（ ）



52. 选择最合适的一项填入问号处，使之呈现一定的规律性（ ）



53. 选择最合适的一项填入问号处，使之呈现一定的规律性（ ）。

证	扣	官	姗	?
---	---	---	---	---

阴	面	器	腆
---	---	---	---

A                      B                      C                      D

54. 选择最合适的一项填入问号处，使之呈现一定的规律性（    ）。

			?
--	--	--	---

--	--	--	--

A                      B                      C                      D

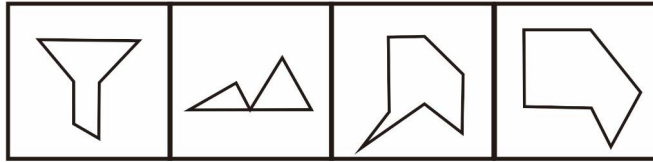
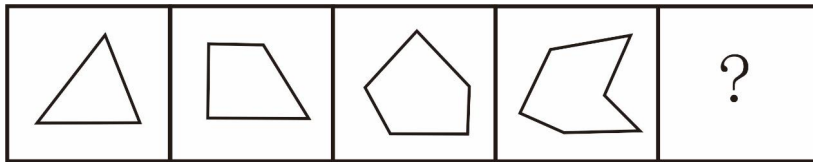
55. 选择最合适的一项填入问号处，使之呈现一定的规律性（    ）。

				?
--	--	--	--	---

--	--	--	--


A                      B                      C                      D

56. 选择最合适的一项填入问号处，使之呈现一定的规律性（    ）。



A B C D

57. 选择最合适的一项填入问号处，使之呈现一定的规律性（ ）。



A B C D

58. 地膜覆盖：增温保水

- A. 田间管理：霜冻虫害
- B. 临床试验：不良反应
- C. 天气预报：卫星云图
- D. 整顿市场：净化风气

59. 根雕：工艺品

- A. 元青花：古董
- B. 混凝土：建筑
- C. 水：发电
- D. 煤：取暖

60. 烟花：炮竹

- A. 桂圆：龙眼
- B. 芒果：水果
- C. 桂皮：八角
- D. 期刊：光盘

61. 黄金：铂金：金属

- A. 北京：纽约：首都
- B. 河流：黄河：长江
- C. 本科生：研究生：学生

D. 民法：宪法：母法

62. 杂货店：百货公司：电子商城

A. 玉石：宝石：水晶

B. 快餐店：餐馆：酒店

C. 钢笔：铅笔：圆珠笔

D. 白炽灯：节能灯：LED灯

63. ( ) 对于 夫妻 相当于 ( ) 对于 师生

A. 离婚；分别

B. 维护；平等

C. 包容；尊重

D. 忍让；教学

64. 长尾理论认为，由于成本和效率的因素，过去人们只能关注重要的人或重要的事，如果用正态分布曲线来描绘这些人或事，人们只能关注曲线的“头部”，而将处于曲线“尾部”、需要更多的精力和成本才能关注到的大多数人或事忽略。

根据上述定义，下列采用长尾理论观点，重视“尾部”的情况是 ( )

A. 尽管现在“大热门”的经济力量已经不如当年，但我们仍然对其绝对重点关注

B. 商家认为听众对非热门音乐有着无限的需求，市场无比巨大，应加以关注

C. 厂商把精力放在那些有80%客户去购买的20%的主流商品上，着力维护购买其80%商品的20%的主流客户

D. 在销售产品时，厂商关注的是少数几个“VIP”客户，无暇顾及在人数上居于大多数的普通消费者

65. 热对流是指热靠液体或者气体的流动来传递的现象。

根据上述定义，下列属于热对流现象的是 ( )

A. 冬天在室外用手摸大小差不多的铁棒和木棒，觉得铁棒比木棒凉

B. 冬天雪覆盖大地，越冬小麦反而不易冻死

C. 炎热的夏天，人们喜欢穿浅色的衣服

D. 将纸质的小风车放在台灯灯罩的上沿，小风车会旋转起来

66. 定性研究主要是指通过收集非数字资料，包括具体的政策文本和语言表达得到的资料，来分析研究对象的内容和具体过程。

根据上述定义，下列不属于定性研究的是 ( )

A. 帮扶干部深入到贫困户家中，对贫困户近2个月的收支情况进行详细询问并填表

B. 访谈者根据被访者的口述采录第二次世界大战中德国纳粹对犹太人的迫害等问题

C. 某地研究机构对两省四市的免费幼儿教育政策进行深入分析并形成个案研究报告

D. 某电视台特邀政策研究室专业人员做客访谈节目，深度探讨农业政策相关问题



---

67. 社会整合是指调整或协调社会各部分之间的矛盾和冲突，使整个社会成为一个统一的运行良好的体系的过程。通过社会整合，使社会体系中既互相独立又互相联系的各个部分之间互相顺应，形成均衡状态。

根据上述定义，下列不属于社会整合的是（ ）

- A. 经济发展中产生的新的社会阶层人士
- B. 地区间的文化交融
- C. 打击各类违法犯罪行为
- D. 中央一号文件指导“三农”工作

68. 协和谬误即某件事情在投入了一定成本、进行到一定程度后发现不宜继续下去，却苦于各种原因而将错就错，欲罢不能。要想走出协和谬误的困境，就需要人们在进行一项事业之前慎重地做出决策，要在掌握了足够信息的情况下，对可能的收益与损失进行全面的评价。

根据上述定义，下列没有体现协和谬误的是（ ）

- A. 妈妈花2000元给亚莉买了电子琴，可亚莉对音乐没有兴趣。为了不浪费2000元的电子琴，妈妈决定每月花500元请家教，坚持了半年后不得不放弃
- B. 股市风云变幻莫测，稍不留心就会被套牢。炒股的人如果在股票发生亏损后能够及时止损，就可以把损失降到较低程度
- C. 小明在一家健身俱乐部付了会费后，被医生告知他在一段时间内不适宜剧烈运动，为了不浪费会费，他不顾剧烈运动带来的痛苦继续健身
- D. 某观光塔的策划者在几年以前就发现不宜再继续建设，却碍于已经为此投入的成本而想继续迎难而上，至今还在苦苦摸索如何克服困难

69. 彼得原理是指每个人在层级组织里都会有得到晋升，直到不能胜任为止，也就是说个人无论有多大的聪明才智，也无论如何努力进取，总会有一个你胜任不了的职位在等待着，并且你一定会达到那个位置。

根据上述定义，下列最符合彼得原理是（ ）

- A. 物理学著名教授谢某经过多年努力取得研究成果后被任命为学科负责人
- B. 世界冠军邓某退役后，自主创业打造属于自己的体育品牌，结果失败
- C. 某公司规定表现优秀的管理人员可以在年底申请加薪或者获得提拔
- D. 前台小李工作三年后被提升为客服主管，经常忙得焦头烂额并感觉乏力

70. 某天夜里，同宿舍的小赵、小钱、小孙、小李在谈论各自以及隔壁宿舍小周喜欢的电视频道。

小赵说：“我和小钱都喜欢看教育频道，小孙喜欢看艺术频道。”

小钱说：“我与小李都喜欢看财经频道，小孙喜欢看艺术频道。”

小孙说：“我与小赵都不喜欢看教育频道，小周喜欢看纪实频道。”

小李说：“小赵和小钱都喜欢看教育频道，我喜欢看新闻频道。”

若他们都只说对了两个人对电视频道的喜好，则小周喜欢的电视频道是（ ）

- A. 纪实频道
- B. 教育频道
- C. 新闻频道
- D. 艺术频道

71. 化学物质X溶于水成为溶液，此溶液温度升高时，X的化学活性增强；当X溶液与化学物质Y的溶液混合时，混合液的温度升高，Y的化学活性增强而X的活性不变；当单独加热Y溶液时，Y的活性保持不变。

由此可知（ ）

- A. 温度改变对X的活性不产生影响
- B. 温度的改变对Y影响大于对X的影响
- C. 把X和Y混合时，二者表现出的活性与单独被研究时不同
- D. 当与X混合时，Y表现出的反应与单独被研究时相同

72. 甲国生产了一种型号为su-34的新型战斗机，乙国在是否要引进这种战斗机的问题上，出现了两种不同的声音。支持者认为su-34较以往引进的su-30有更加强大的对地攻击作战能力。

以下哪项如果为真，最能削弱支持者的声音？

- A. su-30足以满足对地攻击的需要，目前乙国需要提升的是对空攻击作战能力
- B. 目前市场上有比su-34性能更好的其他型号战斗机
- C. 甲乙两国目前在双边贸易中存在诸多摩擦，引入su-34会有很多实际困难
- D. 目前还没有实际数据显示究竟是su-34还是su-30有更强大的对地攻击作战能力

73. 科学家发现，儿童时期不接触细菌和病菌，是5岁以下人群糖尿病病例近年来急剧增加的主要原因之一。而那些生活在农村的孩子由于更早接触到带菌的物质，有更多机会与宠物相处，患过敏症、哮喘和湿疹等疾病的几率反而很低。所以，将细菌消灭得过于彻底的环境可能反而会给儿童的健康带来危害。

以下哪项如果为真，将有力地支持上述结论（ ）

- A. 刚出生的婴儿，其体表和体内是无菌的，但开始吃奶、喝水后，细菌便乘机进入体内
- B. 人体皮肤上的细菌大多起保护作用，并为每个人制造出独特的体味
- C. 大部分细菌是有益于身体健康的，人的健康长寿离不开正常的菌群
- D. 很多有害细菌平时与人体相安无事，当人体免疫力下降时，细菌便开始侵害人体

74. 有一天，甲、乙、丙、丁、戊五个外国商人坐在一起聊天。甲说：“我们五人中有一个人撒谎”；乙说：“我们五人中有两个人在撒谎”；丙说：“我们五人中有三个人在

撒谎”；丁说：“我们五人中有四个人在撒谎”；戊说：“我们五个人全都在撒谎”。

由此，可推出他们之中说真话的是（ ）

- A. 甲和戊
- B. 丁
- C. 乙和丙
- D. 戊

75. 有如下一段对话（ ）

甲：“有的鱼类资源枯竭的地方正是环境遭到破坏的地方。”

乙：“如果某地领导不重视环境保护的话，该地环境就遭到破坏。”

丙：“不存在鱼类资源枯竭的地方，也不存在环境遭到破坏的地方。”

丁：“凡鱼类资源枯竭的地方都不是环境遭到破坏的地方。”

如果甲乙丙丁四人中只有一人说错了，则下列哪项为真？

- A. 有的地方的鱼类资源枯竭了
- B. 某地环境遭到破坏
- C. 某地领导不重视环境保护
- D. 某地领导重视环境保护

#### 第四部分 数量关系

76. 4, 7, 12, 20, 33, ( ), 88

- A. 54
- B. 42
- C. 49
- D. 40

77. 96, 48, 48, 72, ( )

- A. 140
- B. 144
- C. 160
- D. 186

78. 18, 24, 21, 37, 24, 50, ( )

- A. 19
- B. 22
- C. 25
- D. 27

79. 某日停电，房间里同时点燃了两支同样长的蜡烛，两支蜡烛的质量不同，一支可以维持4小时，另一支可以维持7小时。来电时，发现其中一支剩下的长度是另一支剩下长度的4倍，则这次停电时间是（ ）小时。

- A. 2.5
- B. 3
- C. 3.5
- D. 3.8

80. 王老师奖励甲、乙、丙各人民币若干元，三人去文具店买学习用品。其中，甲买了6支中性笔，乙买了3支钢笔，丙买了2支钢笔、1支中性笔和2支铅笔，已知三人用的钱款数额一样，则3支钢笔的价格是（ ）支铅笔的价格。

- A. 4
- B. 8
- C. 10
- D. 12

## 第五部分 资料分析

根据以下材料，回答81-85题。

某市2018年全年实现农业增加值124.3亿元，比上年下降1.6%，粮食播种面积22.3万公顷，比上年减少0.3万公顷；粮食产量115.7万吨，比上年下降7.3%。

全市农业观光园1303个，比上年增加9个；观光园总收入17.8亿元，比上年增长16.7%。

民俗旅游实际经营户7979户，比上年减少726户；民俗旅游总收入7.3亿元，增长20.7%。种业收入14.6亿元，比上年增长13.5%。设施农业总面积18323公顷，比上年下降2.3%；实现收入40.7亿元，增长20.1%。

2018年主要农副产品产量

指标	产量（万吨）	比上年增长（%）
粮食	115.7	-7.3
蔬菜	303.0	-4.5
肉类	46.3	-2.0
禽蛋	15.1	-1.7
水产品	6.3	9.0
牛奶	64.1	-4.9
干鲜果品	85.4	-5.5

81. 该市2017年全年实现农业增加值约（ ）

- A. 124亿元
- B. 126亿元
- C. 129亿元
- D. 132亿元

82. 该市2018年粮食平均产量约为每公顷（ ）

- A. 4.6吨

B. 5.2吨

C. 5.8吨

D. 6.5吨

83. 该市主要农副产品与上年相比，产量变化绝对值最小的是（ ）

A. 肉类

B. 禽蛋

C. 水产品

D. 牛奶

84. 该市种业收入增长速度（ ）

A. 高于观光园总收入增长速度

B. 高于设施农业收入增长速度

C. 低于民俗旅游总收入增长速度

D. 低于设施农业占地面积增长速度

85. 以下说法与资料相符的是（ ）

A. 2018年该市粮食产量不到蔬菜产量的 $\frac{1}{3}$

B. 2018年该市主要农副产品产量均有所下降

C. 2017年该市观光园数量为1312个

D. 2018年该市单位面积粮食产量比上年有所下降

**根据以下材料，回答86-90题。**

2017年，我国规模以上工业企业实现利润75187.1亿元，比上年增长21%。增速比2016年加快12.5个百分点，是2012年以来增速最高的一年。

从行业看，大多数行业利润增加。2017年，在41个工业大类行业中，37个行业利润比上年增长，比上年多8个行业。采矿业利润由降转升。2016年，采矿业利润下降27.5%，2017年，增长2.6倍。制造业利润增长提速，2017年，制造业利润增长18.2%，增速比2016年加5.9个百分点。新经济利润快速增长。2017年，高科技制造业利润增长20.3%，增速高于其他的制造业。

从盈利能力看，2017年，规模以上工业企业主营业务收入利润率为6.46%，比上年提高0.54个百分点，工业企业盈利能力明显增强。

从运行质量看，资金效率有所改善。2017年，规模以上工业企业产成品存货周转天数为14.4天，比上年减少0.5天，应收账款平均回收期为39.1天，比上年减少0.5天，产出效率有所提高。2017年，工业企业每百元资产实现的主营业务收入为108.4元，比上年增加3.7元，人均实现主营业务收入为131.5万元，比上年增加15万元。

---

86. 2016年，规模以上工业企业实现利润约为（ ）亿元。

- A. 58902
- B. 62138
- C. 68025
- D. 74246

87. 相比上年，2016年规模以上工业企业实现利润的增长率为（ ）

- A. 8.5%
- B. 9.2%
- C. 10.5%
- D. 11.4%

88. 2016年，人均实现主营业务收入为（ ）万元。

- A. 116.5
- B. 125.4
- C. 144.2
- D. 162.8

89. 2016年，规模以上工业企业产成品存货周转天数比应收账款平均回收期少（ ）天。

- A. 16.2
- B. 18.6
- C. 24.7
- D. 28.5

90. 根据上述资料，下列说法正确的是（ ）

- A. 2016年我国规模以上工业企业实现利润是2012年至今以来增速最高的一年
- B. 2017年，高科技制造业利润增速最快的是先进制造业
- C. 从盈利能力看，2016年规模以上工业企业主营业务收入利润率为5.92%
- D. 相比上年，2017年工业企业每百元资产实现的主营业务收入降低了约3.5%

**根据以下材料，回答91-95题。**

下表为某年华东地区城市园林绿化情况

某年华东地区城市园林绿化情况统计表

	人均公共 绿地面积 (平方米)	建成区园 林绿地率 (%)	建成区绿 化覆盖率 (%)	公园个数 (个)	公园面积 (公顷)	游人量(万 人次)
全国	7.9	28.54	32.58	7077	157815.9	179367.4
上海	6.7	26.00	27.80	142	1516.6	13654.3
江苏	10.3	25.90	39.85	539	9924.0	10044.6
浙江	9.3	29.98	33.78	748	6045.6	12691.3
安徽	6.6	22.90	27.52	140	3970.1	4901.3
福建	9.2	33.08	36.11	314	4445.6	5226.3
江西	7.8	29.39	32.62	125	2258.9	1777.9
山东	8.1	31.95	36.97	456	11380.5	11219.9

91. 该年全国大约有660个城市，每个城市约有（ ）个公园。

- A. 11
- B. 15
- C. 17
- D. 18

92. 该年华东六省一市中的建成区园林绿地率、建成区绿化覆盖率这两项低于全国平均值的有（ ）

- A. 浙江、江西
- B. 江苏、安徽
- C. 上海、安徽
- D. 福建、山东

93. 该年华东六省一市人均公共绿地面积超过全国平均值的有（ ）个省市。

- A. 7
- B. 5
- C. 4
- D. 3

94. 华东六省一市平均每个公园面积超过20公顷的有（ ）个省市。

- A. 2
- B. 4
- C. 5
- D. 6

95. 下列关于该年华东地区城市园林绿化的统计分析中，正确的有（ ）项。

- ①华东六省一市的建成区园林绿地率平均值约为30%
- ②华东地区的公园个数最多和最少的分别是浙江省和江西省



③上海市的游人量高于华东地区的其他六省

- A. 0
- B. 1
- C. 2
- D. 3

根据以下材料，回答96-100题。

2018年，某省谷物类粮食种植面积为113.62万公顷（注：1公顷=15亩），比上年减少22.79万公顷；谷物类粮食的总产量达700.60万吨，比上年减少141.68万吨。

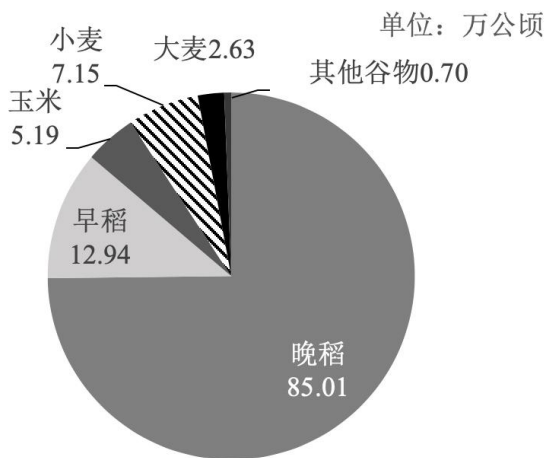


图1 2018年谷物类粮食种植面积结构图

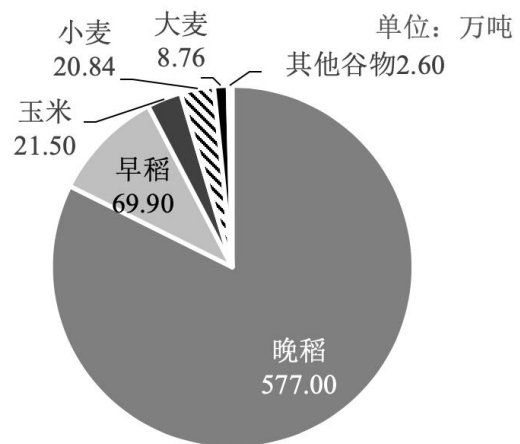


图2 2018年谷物类粮食总产量结构图

96. 2018年该省谷物类粮食的总产量约比上年减少（ ）

- A. 16.82%
- B. 20.22%
- C. 23.27%
- D. 25.35%

97. 2018年该省谷物类粮食的平均亩产量约是（ ）千克。

- A. 411
- B. 424
- C. 432
- D. 446

98. 以下粮食作物中，2018年的亩产量最高的是（ ）

- A. 早稻
- B. 晚稻
- C. 小麦
- D. 玉米

---

99. 2018年亩产量最低的谷物类粮食的种植面积约占谷物类粮食种植面积的( )

- A. 2.31%
- B. 4.57%
- C. 6.29%
- D. 74.82%

100. 以下关于2018年该省谷物类粮食的生产情况的说法中,不正确的一项是( )

- A. 晚稻的产量大于谷物类粮食总产量的 $\frac{4}{5}$
- B. 产量最接近的两种粮食作物的种植总面积约为185万亩
- C. “其他谷物”的种植面积和产量都是最小的
- D. 大麦的亩产量不足210千克



华图教育  
HUATU.COM